

Nr testu -

Liczba punktów:/40

Imię i nazwisko ucznia Klasa

Szkoła - w województwo -

Uwaga!

- **Samo posiadanie przy sobie telefonu komórkowego lub innych urządzeń telekomunikacyjnych czy elektronicznych nośników informacji, równoznaczne jest z dyskwalifikacją, dlatego jeśli nie oddałeś ich swojemu opiekunowi, musisz je przekazać teraz na czas pisania testu osobie w Komisji Egzaminacyjnej.**

- **Na rozwiązanie wszystkich zadań części II (A i B) etapu okręgowego masz 40 minut (jest to czas łączny na zapoznanie się z instrukcją i rozwiązanie testu).**

- **Pamiętaj, że odpowiedzi udzielasz długopisem w kolorze niebieskim lub czarnym.**

- **Nie można używać ołówków ani korektorów (za ich stosowanie Twoja praca zostanie zdyskwalifikowana i za całość otrzymasz 0 pkt.).**

- **Każde skreślenie, poprawka i nieczytelna odpowiedź traktowane są jako odpowiedź błędna. Tak więc udzielając odpowiedzi, zastanów się najpierw zanim dokonasz odpowiedniego wpisu czy zaznaczysz odpowiedź.**

- **Z boku każdego zadania masz wpisaną liczbę, która wskazuje, ile można uzyskać punktów za dane zadanie.**

1/ Skład EKES. Zaznacz X, ilu członków w tym Komitecie zasiada z poniższych państw: /4

Państwo	5	6	7	9	12	15	21	24
Chorwacja								
Cypr								
Dania								
Estonia								
Francja								
Grecja								
Hiszpania								
Łotwa								
Polska								
Słowenia								
Włochy								

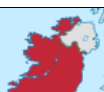
2/ Rozwiń skróty:

/4

- a/ MŚP -
- b/ EFTA -
- c/ EDUC -
- d/ ENA -

Razem punkty za zadania 1-2: /8

3/ Podaj nazwy ukazanych poniżej państw i zaznacz znakiem X, do czego one należą: /6

	Nazwa państwa	Schen- gen	Euro- obszar	EFTA	Rada Europy	Kandy- dat UE
a/ 						
b/ 						
c/ 						
d/ 						
e/ 						
f/ 						

4/ Wpisz rok powstania:

/3

a/ EBI -

b/ EBOR -

c/ UZE -

5/ Wpisz (podaj liczbę), ilu (-e) jest:

/4

a/ członków TSUE -

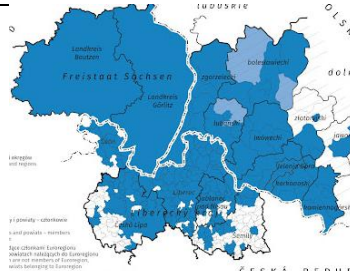


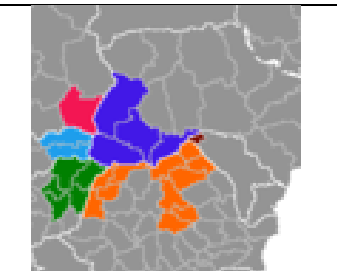
b/ członków Prezydium PE -

c/ wiceprzewodniczących KR -

d/ języków urzędowych UE -

6/ Podaj nazwy poniższych Euroregionów:

/4

			
a/	b/	c/	d/

Razem punkty za zadania 3-6: /17

7/ Języki urzędowe państw UE – wpisz nazwy języków urzędowych poniższych państw:/5

a/ 4 w Hiszpanii -

.....

b/ 2 w Finlandii -

c/ 2 w Irlandii -

d/ 3 w Belgii -

e/ 3 w Luksemburgu -

8/ Część B. Zadanie z materiałem źródłowym – do poniższych zdjęć szefów organów UE podaj: imię i nazwisko szefa (w pkt. A) oraz nazwę organu (w pkt. B), na którego czele on stoi:

8.1/ Kobiety:





/6

8.1a.		A/
		B/
8.1b.		A/
		B/
8.1c.		A/
		B/
8.1d.		A/
		B/
8.1e.		A/
		B/
8.1f.		A/
		B/

Razem punkty za zadania 7-8.1: /11

8.2/ Mężczyźni:

/4

8.2a.		A/
		B/
8.2b.		A/
		B/
8.2c.		A/
		B/
8.2d.		A/
		B/

Razem punkty za zadanie 8.2: /4

BRUDNOPIS

Liczba punktów za cały test razem:/ na 40 możliwych. Podpisy czytelne Komitetu Okręgowego:

Sprawdzający: Weryfikujący:

Podpis osoby kwalifikującej - Organizatora (spoza Komitetu Okręgowego):