



Liczba punktów:

WOJEWÓDZTWO Szkoła -

..... W




Imię i nazwisko ucznia Klasa

Uwaga!

- Na rozwiązanie wszystkich zadań części II etapu centralnego masz 40 minut (łącznie z zapoznaniem się z niniejszą instrukcją)
- Pamiętaj, że odpowiedzi udzielasz długopisem w kolorze niebieskim lub czarnym
- Nie można używać ołówków ani korektorów (za ich stosowanie Twoja praca zostanie zdyskwalifikowana i za całość otrzymasz 0 pkt.)
- Dopuszcza się możliwość poprawek w jedyny sposób – należy skreślić część wypowiedzi i obok napisać nową, do oceny
- Mazanie, poprawianie wypowiedzi (zwłaszcza dat czy nazwisk) jest niedopuszczalne i przy ocenianiu wypowiedzi będzie pomijane.
- Na ostatniej stronie pracy masz brudnopis, który nie będzie podlegał ocenie
- Sprawdź, czy Twój arkusz zawiera 4 strony, w przypadku braków – zgłoś przedstawicielowi KG

..... Zadanie 1. (0-6)

Wpisz imię i nazwisko podanej niżej osoby (nr 1) oraz funkcję i pełną polską nazwę instytucji, w jakiej ją pełni (nr 2).

	<p>A1 -</p> <p>A2 -</p>
	<p>B1 -</p> <p>B2 -</p>
	<p>C1 -</p> <p>C2 -</p>

..... Zadanie 2/ (0-4)

Uzupełnij poniższy tekst dotyczący Europejskiego Banku Inwestycyjnego:

EBI został ustanowiony w rokua/ Siedziba mieści się wb/
(miasto), a prezesem jestc/ (imię i nazwisko). EBI
składa się z jednego przedstawiciela z każdego państwa członkowskiego oraz przedstawiciela
KE. EBI pozyskuje środki finansowe na rynkach kapitałowych i udziela kredytów na
preferencyjnych warunkach na projekty wspierające cele UE. Okołod/ % (podaj liczbę
zaokrągloną do pełnej dziesiątki) pożyczek jest udzielanych na terytorium UE.

..... /10 Suma pkt. za zadania 1-2

..... Zadanie 3/ (0-3)

Masz poniżej fotografie siedzib instytucji i organów UE. Wpisz ich pełne polskie nazwy .

		
a/	b/	c/

..... Zadanie 4/ (0-3)

Podaj nazwę kategorii kompetencji UE oraz numer artykułu z TFUE:

a/ w tych obszarach UE nie może przyjmować wiążących prawnie aktów, które wymagają od państw członkowskich harmonizacji krajowych przepisów ustawowych i wykonawczych -

..... (art.TFUE)

b/ tylko UE ma prawo do działania (art.TFUE)

c/ państwa członkowskie mogą podjąć działania wyłącznie, jeśli UE postanowi ich nie podejmować..... (art.TFUE)

..... Zadanie 5/ (0-5)

Do podanych zadań dopisz pełną polską nazwę instytucji lub organu UE:

a. Odpowiada za kontrolowanie prawidłowego gromadzenia i wykorzystywania funduszy UE oraz pomaga w doskonaleniu zarządzania finansami UE -

b. Zapewnia środki finansowe na projekty, które przyczynią się do osiągnięcia celów UE zarówno w UE, jak i poza jej granicami-

c. Organ doradczy reprezentujący organizacje pracowników i pracodawców oraz inne grupy interesu -

d. Wskazuje Unii ogólny kierunek działań politycznych i priorytety polityczne -

e. Wypracowuje i koordynuje politykę wewnętrzną i zagraniczną UE, zawiera umowy międzynarodowe -

..... /11 Suma pkt. za zadania 3-5

..... Zadanie 6/ (0-4)

Uporządkuj wszystkie chronologicznie (od najstarszego do najmłodszego) powstania organów i instytucji UE. Wstaw cyfry od 1 do 4.

a/ założenie ETO (.....) b/ założenie KR (.....) c/ powstanie TSUE (.....) d/ powstanie EIOD (.....)

..... Zadanie 7/ (0-4)

Do podanych niżej opisów dopisz imię i nazwisko tej osoby:

A) polski prawnik, od 2019 r. pełni funkcję EIOD

.....

B) polski prawnik, sędzia w TSUE w latach 2004-2009

.....

C) polski prawnik, rzecznik generalny w TSUE

.....

D) polska ekonomistka, pierwszy reprezentujący Polskę komisarz w UE

.....

..... Zadanie 8/ (0-4)

Podaj, kto powołuje (podaj polską nazwę powołującej instytucji UE) podaną/-e poniżej osobę/-y na dane stanowisko i wpisz ile lat trwa kadencja tej/-ych osoby/-ób:

a. Wysoki Przedstawiciel Unii Europejskiej do spraw Zagranicznych i Polityki Bezpieczeństwa -

..... (kadencja - lat)




b. członkowie TO - (kadencja - lat)

c. członkowie EKES - (kadencja - lat)

d. ERPO - (kadencja - lat)

..... Zadanie 9/ (0-3)

Masz poniżej loga organów UE. Wpisz ich pełne polskie nazwy.

		
a/	b/	c/

..... /15 Suma pkt. za zadania 6 - 9

..... Zadanie 10/ (0-3)

TSUE obejmuje dwa organy sądowe. Uzupełnij informacje dotyczące Sądu .

a/ skład -

b/ kadencja sędziów - lat

c/ kadencja prezesa - lat

..... Zadanie 11/ (0-1)

Podaj imię i nazwisko przewodniczącego Komitetu Regionów:

.....

..... /4 Suma pkt. za zadania 10 - 11

BRUDNOPIS

Liczba punktów: Podpisy Komitetu Głównego: Spr.: Wer.: