



Liczba punktów:	
-----------------	--

WOJEWÓDZTWO Szkoła -.....

..... W

Imię i nazwisko ucznia Klasa

Uwaga!

- Na rozwiązanie wszystkich zadań części I etapu centralnego masz 90 minut
- Pamiętaj, że odpowiedzi udzielasz długopisem w kolorze niebieskim lub czarnym
- Nie można używać ołówków ani korektorów (za ich stosowanie Twoja praca zostanie zdyskwalifikowana i za całość otrzymasz 0 pkt.)
- Dopuszcza się możliwość poprawek w jedyny sposób – należy skreślić część wypowiedzi i obok napisać nową, do oceny
- Mazanie, poprawianie wypowiedzi (zwłaszcza dat czy nazwisk) jest niedopuszczalne i przy ocenianiu wypowiedzi będzie pomijane.
- Na ostatniej stronie testu masz brudnopis, który nie będzie podlegał ocenie
- Sprawdź, czy Twój arkusz zawiera 14 stron, w przypadku braków – zgłoś przedstawicielowi KG

..... Zadanie 1. (0-3) Wpisz nazwisko przywódcy państwa (a – premiera; b, c – prezydenta) i kraj, gdzie sprawują oni władzę:



a.

b.

c.

.....

.....

.....

..... Zadanie 2. (0-2) Organy parlamentu RP.

Opis A. Tworzony jest przez Marszałka i wicemarszałków izby wyższej.

Opis B. Organ kierowniczy izby wyższej o charakterze opiniodawczym, jego rozstrzygnięcia nie są prawnie wiążące. W jego skład wchodzi: Marszałek izby wyższej, wicemarszałkowie izby wyższej, przewodniczący lub wiceprzewodniczący klubów i kół.

Opis C. Zwołuje posiedzenia izby niższej i przewodniczy jego obradom, a pod jego nieobecność kieruje obradami jeden z jego zastępców.

Do każdego podanego opisu dopisz nazwę właściwego organu parlamentu RP.

A -

B -

C -

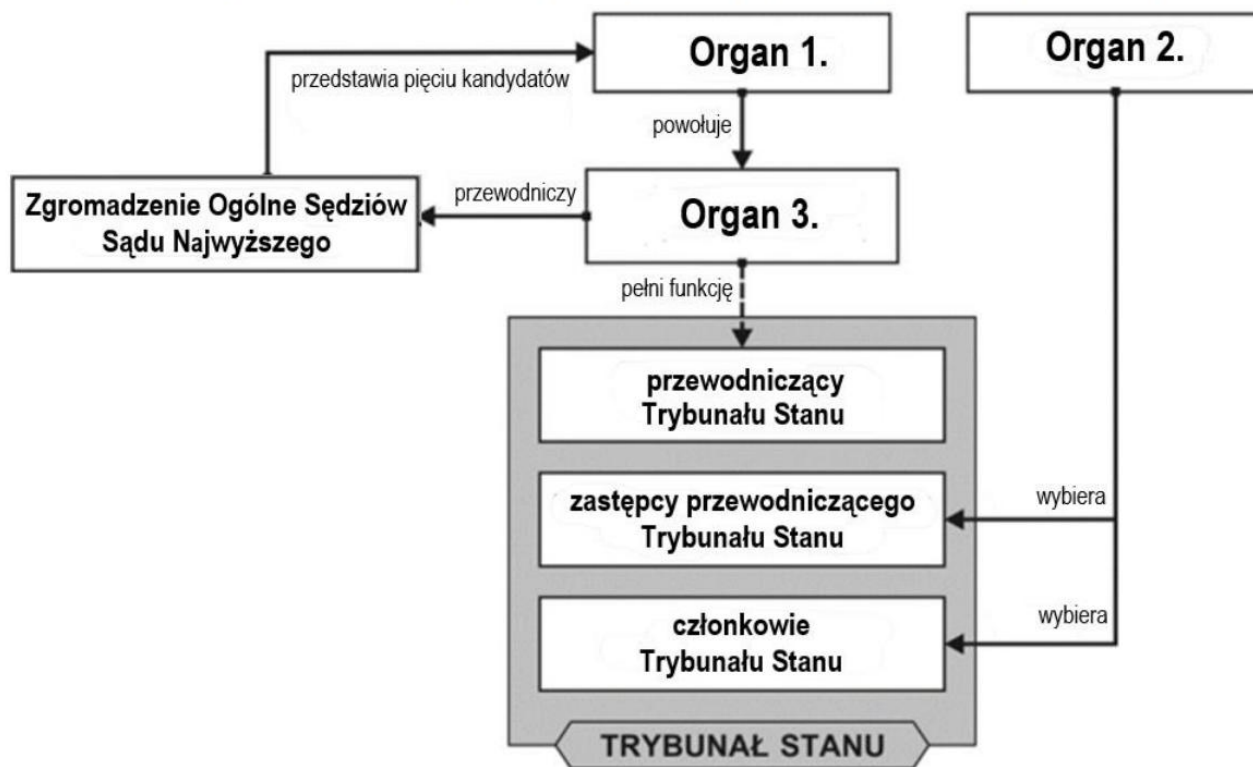
..... /5 Suma pkt. za zadania 1-2

..... Zadanie 3. (0-2). Zaznacz (wstaw znak „X” w odpowiedniej kolumnie), jaką większością głosów w RP – zwykłą, bezwzględną czy kwalifikowaną – są podejmowane wymienione poniżej decyzje.

	Decyzja	Zwykła	Bezwzględna	Kwalifikowana
A	Postawienie prezydenta RP przed TS przez ZN			
B	Uchwalanie ustaw przez senat			
C	Weto prezydenta odrzucane przez sejm			
D	Wybór prezydenta RP			
E	Zmiana konstytucji przez sejm			

.....Zadanie 4. (0-2)

Schemat. Powoływanie składu wybranych organów judykatury w Rzeczypospolitej Polskiej



Na podstawie: Dz.U. 1997, nr 78, poz. 483, z późn. zm.; Dz.U. 2018, poz. 5, z późn. zm.
(stan prawny na 20 lutego 2021 r.).

Uzupełnij schemat – wpisz nazwy organów zastąpione numerami 1., 2. i 3.

Organ 1. –

Organ 2. –

Organ 3. –

Ź: EM 2021.03

..... /4 Suma pkt. za zadania 3 - 4

..... Zadanie 5. (0-2). Masz podane loga różnych organizacji międzynarodowych. Wpisz poniżej ich pełne polskie nazwy.

		
a/	b/	c/

..... Zadanie 6. (0-2). Kompetencje organów władzy w Rzeczypospolitej Polskiej

Opis A. Decyduje w imieniu Rzeczypospolitej o stanie wojny i o zawarciu pokoju.

Opis B. Zapewnia bezpieczeństwo wewnętrzne państwa.

Opis C. Nadaje obywatelstwo polskie.

Opis D. Zawiera umowy międzynarodowe wymagające ratyfikacji.

Opis E. Ratyfikuje i wypowiada umowy międzynarodowe.

Na podstawie: Konstytucja Rzeczypospolitej Polskiej, Dz.U. 1997, nr 78, poz. 483, z późn. zm. (stan prawny na 5 marca 2018 r.).

Do każdej nazwy organu władzy w Rzeczypospolitej Polskiej przyporządkuj po dwie litery, którymi oznaczono jego kompetencje.

1. Prezydent Rzeczypospolitej Polskiej - +

2. Rada Ministrów Rzeczypospolitej Polskiej - +

Ź: EM 2018.05

..... Zadanie 7. (0-2)

Ustrój Rzeczypospolitej Polskiej.

Zaznacz, które z poniższych zdań są prawdziwe (P), a które fałszywe (F)

- | | | |
|---|----------|----------|
| A) Pierwszy krok prowadzący do powołania Rady Ministrów należy do Sejmu. | P | F |
| B) Administracja publiczna składa się z dwóch segmentów - administracji rządowej i administracji samorządowej. | P | F |
| C) Weto prezydenta RP odrzuca sejm i senat większością kwalifikowaną 3/5 | P | F |
| D) Prezydent RP powołuje swoich przedstawicieli do KRS. | P | F |
| E) Rada Ministrów może zostać odwołana przez prezydenta RP na skutek nieuchwalenia w terminie budżetu państwa przez Sejm i Senat. | P | F |

..... Zadanie 8. (0-2) Do podanych opisów dopisz odpowiednie pojęcie:

- A. konflikt rozstrzyga decyzja bezstronnego sędziego -
- B. strony sporu prowadzą rozmowy bez pośredników -
- C. akceptowana przez strony osoba szuka rozwiązania sporu -
- D. spór międzynarodowy np. o charakterze politycznym lub gospodarczym-

..... /8 Suma pkt. za zadania 5 - 8

..... **Zadanie 9. (0-1)**

O koalicji antyterrorystycznej Podstawą do podjęcia kwestii zwalczania terroryzmu i ewentualnego udziału Sojuszu w koalicji antyterrorystycznej stało się bezpośrednio zagrożenie bezpieczeństwa Stanów Zjednoczonych. 12 września 2001 r. Rada podjęła decyzję o zastosowaniu artykułu 5. traktatu waszyngtońskiego. Na podstawie tego artykułu sojusznicy podjęli decyzję o: (1) intensyfikacji współpracy wywiadowczej i wymiany informacji; (2) rozważeniu ewentualności pomocy państwom, które znajdują się w bezpośrednim zagrożeniu lub naruszone zostaną ich interesy gospodarcze w związku z poparciem dla kampanii antyterrorystycznej; (3) działaniach na rzecz zwiększenia bezpieczeństwa wojsk i instalacji amerykańskich na terytoriach państw sojuszniczych; (4) przygotowaniu do ewentualnego zastąpienia sił (głównie amerykańskich) na Bałkanach, które potrzebne będą w operacji przeciw terroryzmowi, jednostkami innych państw sojuszniczych; (5) wyrażeniu przez sojuszników zgody na udostępnienie przestrzeni powietrznej dla potrzeb wojskowego transportu lotniczego; (6) zapewnieniu dostępu do portów i lotnisk oraz niezbędnej infrastruktury.

Na podstawie: www.pism.pl

Oceń prawdziwość podanych stwierdzeń. Zaznacz P, jeśli stwierdzenie jest prawdziwe, albo F – jeśli jest fałszywe.

1. Polska jest członkiem organizacji funkcjonującej na mocy traktatu wskazanego w tekście od 1999 roku. **P F**
2. Decyzję opisaną w tekście, na mocy art. 5 wskazanego w nim traktatu, podjęła Rada Bezpieczeństwa. **P F**
3. Według tekstu koalicja antyterrorystyczna miała podjąć współpracę o charakterze wojskowym oraz wywiadowczym. **P F**

Ź: IM

..... **Zadanie 10. (0-1).**

Fragment skargi złożonej w Rzeczypospolitej Polskiej

Wnoszę o stwierdzenie, że art. 28 par. 1 i art. 30 par. 1 *kpk* w zakresie, w jakim uniemożliwiają przed sądami I instancji udział czynnika społecznego w sprawowaniu wymiaru sprawiedliwości, są niezgodne z art. 45 ust. 1 w zw. z art. 182 *Konstytucji RP*.

Jednocześnie wnoszę:

- 1) o zasądzenie kosztów postępowania na rzecz skarżącego;
- 2) o zawieszenie lub wstrzymanie wykonania wyroku Sądu Okręgowego w Warszawie z dnia 10 marca 2010 r. sygn. akt X Ka 69/10 – w przypadku nadania biegu niniejszej skardze.

Na podstawie: saos.org.pl

Zaznacz poprawne dokończenie zdania.

Organem właściwym do rozpatrzenia skargi, której fragment zaprezentowano, jest

- | | |
|------------------------------|----------------------------------|
| A. Sąd Najwyższy. | B. Trybunał Konstytucyjny. |
| C. Sąd Okręgowy w Warszawie. | D. Naczelny Sąd Administracyjny. |

Ź: EM 2019.05

..... /2 **Suma pkt. za zadania 9 - 10**

..... Zadanie 11. (0-2)

O nowelizacji jednej z ustaw

Nowelizacja zakłada, że przyjęcie mandatu karnego albo uiszczenie grzywny za wykroczenia przeciwko bezpieczeństwu i porządkowi w komunikacji przez prokuratora, posła, senatora, RPD, prezesa UODO lub szefa IPN automatycznie stanowić będzie oświadczenie o wyrażeniu przez niego zgody na pociągnięcie go do odpowiedzialności w tej formie.

Parlamentarzysta będzie mógł [...] odmówić przyjęcia mandatu [karnego]. Wówczas [...] „uprawnione organy będą mogły tak jak dotychczas, za pośrednictwem Prokuratora Generalnego, wystąpić z wnioskiem o wyrażenie zgody na pociągnięcie posła lub senatora do odpowiedzialności”.

www.tvn24.pl

11.1. Podaj nazwę przywileju przysługującego m.in. parlamentarzystom, którego dotyczy drugi akapit tekstu.

.....
11.2. Zaznacz poprawne dokończenie zdania.

W przypadku odmowy przyjęcia mandatu karnego poseł może być pociągnięty do odpowiedzialności karnej za zgodą

- A. Prokuratora Generalnego B. Komisji Etyki Poselskiej C. Prezydenta RP D. Sejmu RP

11.3. Podaj pełne nazwy instytucji, których skrótowce występują w tekście.

RPD –

UODO –

IPN –

Ź: EM 2018.05

... Zadanie. 12. (0-2).

Do podanych rodzajów administracji rządowej w Polsce dobierz odpowiadające im organy. We wskazane miejsca wpisz właściwe numery.

Administracja rządowa:

Organy władzy:

A. niezespólna

1. Szef Służby Cywilnej

B. zespólna

2. Minister Rolnictwa i Rozwoju Wsi

C. organ naczelny

3. mazowieccy inspektorzy transportu drogowego

D. organ centralny

4. Prezydent Miasta Kutna

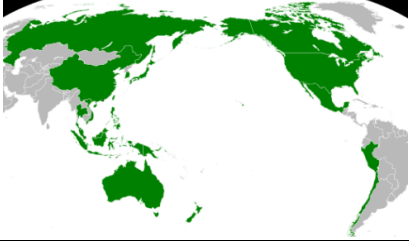


5. Podlaski Wojewódzki Inspektor Nadzoru Budowlanego

..... /4 **Suma pkt. za zadania 11 - 12**

..... Zadanie 13. (0-2) Uzupełnij poniższą tabelę: w każdej kolumnie (dotyczącej inicjatywy ustawodawczej, konstytucyjnej i budżetowej w Polsce) zaznacz znakiem „X” wszystkie podmioty, którym przysługuje dany rodzaj inicjatywy

Podmiot	Inicjatywa ustawodawcza	Inicjatywa konstytucyjna	Inicjatywa budżetowa
Grupa min. 15 posłów			
Grupa min. 1/5 posłów			
Prezydent RP			
Rada Ministrów			
Senat			
min. 100.000 obywateli			

..... Zadanie 14. (0-2) Wpisz pełne polskie nazwy poniższych organizacji międzynarodowych ukazanych na mapach.

		
a/	b/	c/

..... Zadanie 15. (0-1)

Głosowanie Sejmu RP z 18 listopada 2015 r.

GŁOSOWANIE NR 21	
GŁOSOWAŁO	456
W. BEZWZGLĘDNA	<input type="text"/>
ZA	<input type="text"/>
PRZECIW	202
WSTRZYMAŁO SIĘ	18

www.vod.gazetapolska.pl

Rozstrzygnij, czy w przedstawionym głosowaniu osiągnięto większość bezwzględną. Odpowiedź uzasadnij, wyliczając dane na podstawie zamieszczonego materiału.

Rozstrzygnięcie –

Uzasadnienie –

.....

.....

.....

Ź: EM 2017.05

..... /5 Suma pkt. za zadania 13-15

..... **Zadanie 16. (0-2)**

Fragmety ustawy obowiązującej w Rzeczypospolitej Polskiej

Art. 1. W celu zapewnienia zawodowego, rzetelnego, bezstronnego i politycznie neutralnego wykonywania zadań państwa ustanawia się służbę cywilną oraz określa zasady dostępu do tej służby, zasady jej organizacji, funkcjonowania i rozwoju.

Art. 78.1. Członek korpusu służby cywilnej przy wykonywaniu obowiązków służbowych nie może kierować się interesem jednostkowym lub grupowym.

2. Członkowi korpusu służby cywilnej nie wolno publicznie manifestować poglądów politycznych.

Dz.U. 2008, nr 227, poz. 1505, z późn. zm. (stan prawny na 16 marca 2021 r.).

16.1. Rozstrzygnij, czy członkowie Rady Ministrów są członkami korpusu wskazanego w przytoczonych przepisach prawnych. Odpowiedź uzasadnij, odwołując się do jednego z tych przepisów.

Rozstrzygnięcie –

Uzasadnienie—.....

16.2. Dokończ zdanie. Zaznacz właściwą odpowiedź spośród podanych.

Zwierzchnikiem korpusu wskazanego w przytoczonych przepisach prawnych jest

- A. Prezes Rady Ministrów.
- B. Dyrektor Krajowej Szkoły Administracji Publicznej.
- C. Przewodniczący Komitetu do spraw Pożytku Publicznego.
- D. Prezes Sądu Najwyższego kierujący Izbą Kontroli Nadzwyczajnej i Spraw Publicznych.

Ź: IM

..... **Zadanie 17. (0-1)**

O skutkach nawałnicy

80 zniszczonych budynków i kilkanaście domów bez dachów. To bilans piątkowej nawałnicy w gminie Kosów Lacki [...] [powiat sokołowski, województwo mazowieckie]. – Całą sobotę spisywaliśmy uszkodzenia, jest makabrycznie. Nie wiemy jeszcze, co dzieje się w lasach – martwi się burmistrz [...]. Samorząd [gminny] będzie zabiegał o ogłoszenie stanu klęski żywiołowej.

www.rdc.pl

Zaznacz poprawne dokończenie zdania.

W zaistniałej sytuacji – zgodnie z Konstytucją Rzeczypospolitej Polskiej – postulat samorządu gminnego mógł być spełniony przez:

- A. Prezydenta RP.
- B. Radę Ministrów RP.
- C. Starostę Powiatu Sokołowskiego.
- D. Marszałka Województwa Mazowieckiego.

Ź: EM 2018.05

..... /3 **Suma pkt. za zadania 16-17**

..... Zadanie 18. (0-2)

Do każdego przepisu prawnego dotyczącego organu władzy publicznej w województwie dopisz nazwę tego organu.

A. jest organem stanowiącym i kontrolnym województwa -

B. za prawidłowe wykonanie budżetu województwa odpowiada -

C. jest zwierzchnikiem rządowej administracji zespolonej w województwie -

..... Zadanie 19. (0- 2).

O wydarzeniach w państwach azjatyckich

Opis A. Po zamachach 11 września 2001 roku podjęto w tym państwie interwencję zbrojną przeciw Al-Kaidzie, w wyniku której władzę utracili talibowie, a prezydentem został Hamid Karzaj. Międzynarodowa misja stabilizacyjna trwała do 2014 roku.

Opis B. Arabska Wiosna nie doprowadziła do obalenia prezydenta Baszszara al-Asada, ale do wybuchu wojny domowej. Radykałowie z Państwa Islamskiego wykorzystali destabilizację i przejęli kontrolę nad znaczną częścią terytorium tego państwa.

Fragment mapy politycznej Azji



Na podstawie: www.worldatlas.com

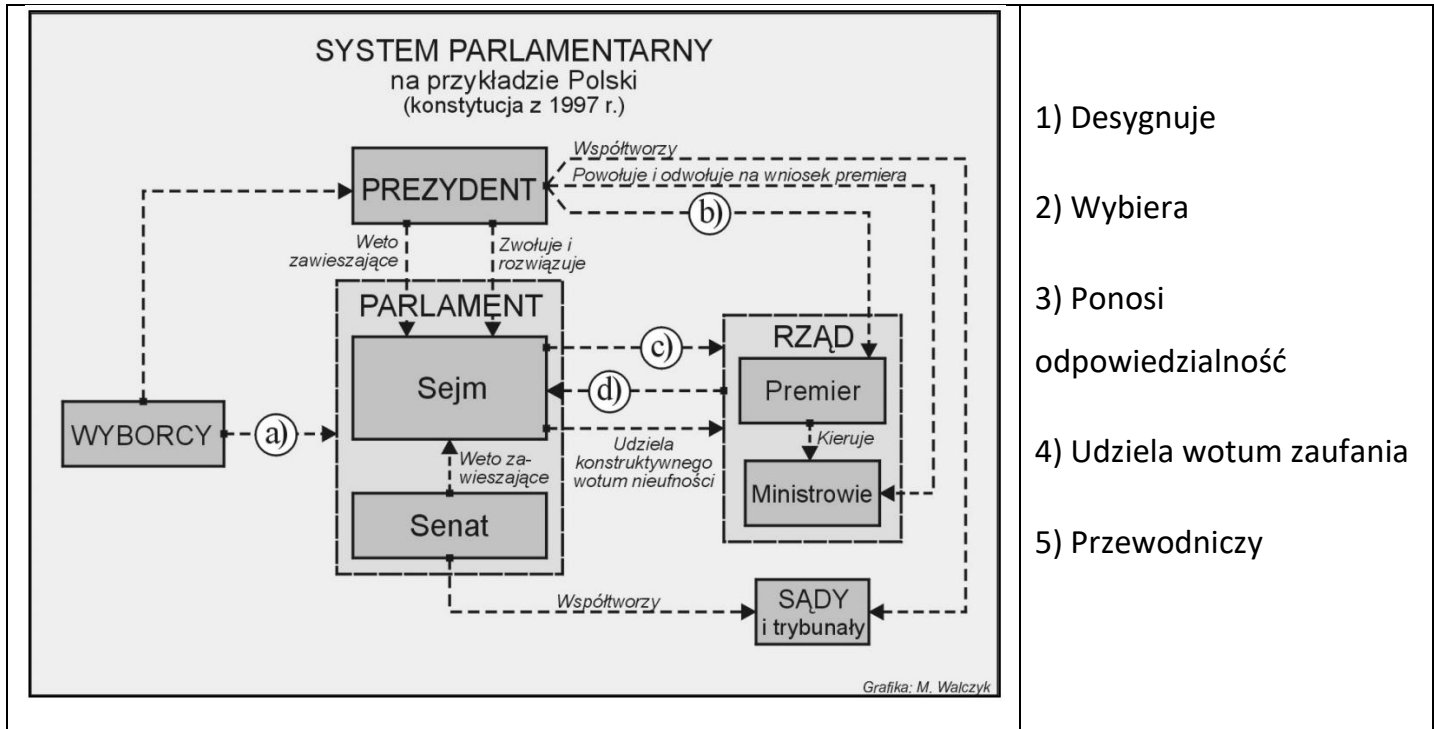
Uzupełnij tabelę – do każdego opisu dopisz nazwę właściwego państwa i numer, którym oznaczono je na mapie.

	Nazwa państwa	Numer na mapie
Opis A.		
Opis B.		

Ź: EM 2018.05

..... /4 Suma pkt. za zadania 18 - 19

..... Zadanie 20. (0-2)



- 1) Desygnuje
- 2) Wybiera
- 3) Ponosi odpowiedzialność
- 4) Udziela wotum zaufania
- 5) Przewodniczy

Dobierz określenia (oznaczone liczbami od 1-5 obok schematu) do relacji między uczestnikami życia publicznego (wyborcami, prezydentem, sejmem, senatem, rządem), oznaczonych strzałkami na schemacie. Wpisz te liczby nazw w miejsca oznaczone literami:

- a/
- b/
- c/
- d/

Ź: EM 2005.12

..... Zadanie 21. (0-2)

O głównym zadaniu KAS

Głównym zadaniem KAS jest pobór należności podatkowych i celnych oraz kontrola prawidłowości realizacji obowiązków związanych z daninami publicznymi. Pełny katalog zadań KAS zawiera przepis art. 2 ustawy o KAS.

21.1. a/ Rozwiń skrót KAS -

b/ podaj nazwę partii, za rządów której utworzono KAS -

21.2. Zaznacz właściwą odpowiedź – KAS podlega bezpośrednio:

- c. ministrowi finansów
- d. ministrowi skarbu państwa
- e. ministrowi spraw wewnętrznych i administracji
- f. Prezesowi RM

..... /4 Suma pkt. za zadania 20-21

..... Zadanie 22. (0-3)

Po zapoznaniu się z fragmentami jednej z polskich konstytucji rozwiąż zadania.

Art. 2. Władza zwierzchnia w Rzeczypospolitej Polskiej należy do Narodu. Organami Narodu w zakresie ustawodawstwa są Sejm i Senat, w zakresie władzy wykonawczej – Prezydent Rzeczypospolitej łącznie z odpowiedzialnymi ministrami, w zakresie wymiaru sprawiedliwości – niezawisłe Sądy.

Art. 10. Prawo inicjatywy ustawodawczej przysługuje Rządowi i Sejmowi. [...]

Art. 20. Posłowie są przedstawicielami całego Narodu i nie są krępowani żadnymi instrukcjami wyborców.

Art. 35. Każdy projekt ustawy przez Sejm uchwalony będzie przekazany Senatowi do rozpatrzenia. Jeżeli Senat nie podniesie w ciągu 30 dni od dnia doręczenia mu uchwalonego projektu ustawy żadnych przeciwko niemu zarzutów – Prezydent Rzeczypospolitej zarządzi ogłoszenie ustawy. [...] Jeżeli Sejm zmiany przez Senat proponowane uchwali zwykłą większością albo odrzuci większością 11/20 głosujących – Prezydent Rzeczypospolitej zarządzi ogłoszenie ustawy w brzmieniu ustalonym ponowną uchwałą Sejmu.

Art. 39. Prezydenta Rzeczypospolitej wybierają na lat siedem bezwzględną większością głosów Sejm i Senat połączone w Zgromadzenie Narodowe. [...]

Art. 58. Do odpowiedzialności parlamentarnej pociąga ministrów Sejm zwyczajną większością. Rada Ministrów i każdy minister z osobna ustępują na żądanie Sejmu.

22.1. Podaj poprawne dokończenie zdania.

Przytoczone przepisy prawne zamieszczono w:

- A. małej konstytucji z 1919 roku.
- B. konstytucji marcowej z 1921 roku.
- C. konstytucji kwietniowej z 1935 roku.
- D. konstytucji lipcowej z 1952 roku.

22.2. Podaj nazwę typu mandatu poselskiego przedstawionego w art. 20.

.....

22.3. Rozstrzygnij, czy pozycja ustrojowa głowy państwa wynikająca z przedstawionych fragmentów aktu prawnego była bardziej znacząca niż w obecnie obowiązującej Konstytucji RP. Odpowiedź uzasadnij, odnosząc się do zamieszczonego przepisu prawnego i obecnych uregulowań w tym zakresie.

Rozstrzygnięcie –

Uzasadnienie -

.....

.....

Ż: IM

..... /3 **Suma pkt. za zadanie 22**

..... Zadanie 23. (0-1)

Przepisy prawne z Konstytucji Rzeczypospolitej Polskiej (art. 235)

1. Projekt ustawy o zmianie Konstytucji może przedłożyć co najmniej 1/5 ustawowej liczby posłów, Senat lub Prezydent Rzeczypospolitej.
2. Zmiana Konstytucji następuje w drodze ustawy uchwalonej w jednakowym brzmieniu przez Sejm i następnie w terminie nie dłuższym niż 60 dni przez Senat.
6. Jeżeli ustawa o zmianie Konstytucji dotyczy przepisów rozdziału I, II lub XII, podmioty określone w ust. 1 mogą zażądać, w terminie 45 dni od dnia uchwalenia ustawy przez Senat, przeprowadzenia referendum zatwierdzającego. [...]

Dz.U. 1997, nr 78, poz. 483, z późn. zm. (stan prawny na 20 lutego 2021 r.).

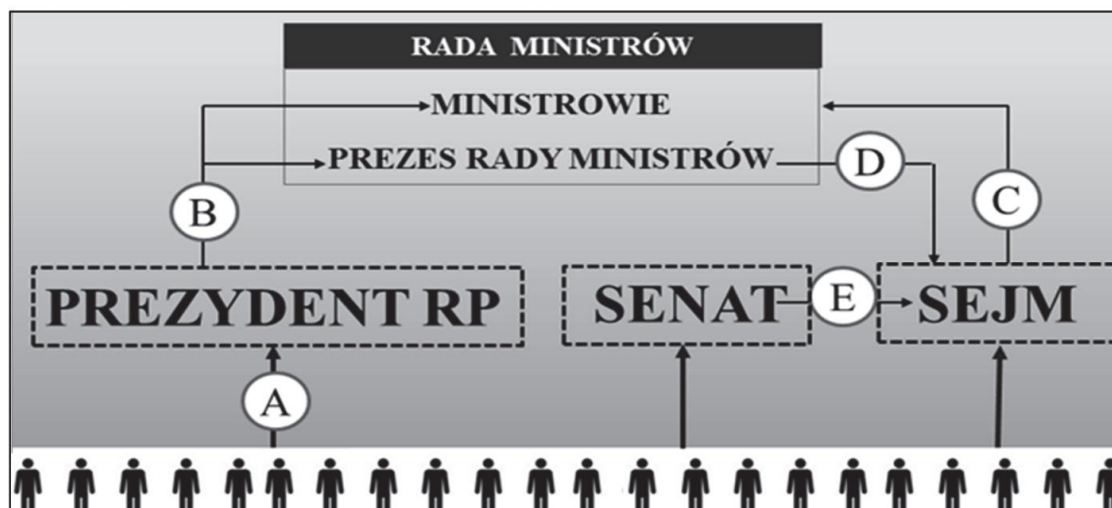
Oceń prawdziwość podanych zdań. Zaznacz P, jeśli zdanie jest prawdziwe, albo F – jeśli jest fałszywe.

1. Inicjatywę ustawodawczą w zakresie tzw. ustaw zwykłych – inaczej niż w przypadku ustawy, której dotyczą przytoczone przepisy prawne – ma Rada Ministrów RP. P F
2. Jeśli ustawa wskazana w przytoczonych przepisach prawnych dotyczy praw i wolności człowieka, Prezydent RP może zażądać przeprowadzenia referendum zatwierdzającego. P F
3. Senat RP w przypadku ustawy, której dotyczą przytoczone przepisy prawne, ma prawo zgłaszania poprawek. P F

Ź: EM 2021.03

..... Zadanie 24. (0-1)

Schemat. System władzy w Rzeczypospolitej Polskiej



Na podstawie: Dz.U. 1997, nr 78, poz. 483, z późn. zm. (stan prawny na 5 marca 2019 r.).

Do każdego podanego działania przyporządkuj właściwą literę ze schematu.

1/ zaprzysiężenie rządu –

2/ uchwalenie absolutorium –

..... /2 Suma pkt. za zadania 23 -24

..... Zadanie 25. (0-2)

Po zapoznaniu się z tekstami źródłowymi rozwiąż zadania

Tekst 1. Fragment publikacji M. Polakowskiego pt. „Polityka społeczna po 1989: język, kontekst postsocjalizmu i perspektywy rozwoju”

Postawa „homo sovieticus” wykształciła się przez lata życia w systemie totalitarnym, które doprowadziły do powstania swego rodzaju bierności. Tzw. wyuczona bezradność miała być również jedną z głównych przeszkód dla przedsiębiorczości w nowym systemie gospodarki rynkowej, ponieważ osłabiała poczucie indywidualnej odpowiedzialności i sprawiała, że ludzie oczekiwali, że wszystko „załatwi za nich państwo”. „Niekompetentny cywilizacyjnie” „homo sovieticus” nie potrafił się odnaleźć w nowym świecie gospodarki rynkowej, bał się odpowiedzialności za samodzielnie podejmowane decyzje, przy czym winą za to obarczano „państwowy paternalizm”.

Tekst 2. Wypowiedź T. Rakowskiego z „Gazety Wyborczej”

Powstaje krąg ludzi, którzy pomagają sobie przetrwać. I w sensie ekonomicznym, np. gdy razem zdobywają opał czy pożywienie, ale – i to ważniejsze – w sensie psychologicznym. Ci ludzie wzajemnie się wspierają. [...] W świętokrzyskich wioskach zbierają zioła, dystrybuują pożywienie, zdobywają opał. Robią razem coraz więcej rzeczy. Wyraźne jest poczucie, że trzeba działać, że nie wolno pozostawać biernym, że trzeba się przeciwstawić temu, co przychodzi z zewnątrz. Najczęściej sięga się po sprawdzone na wsi sposoby. Zdobywa się opał, z pól ściąga zarastające je brzoźki. Je się przede wszystkim to, co uda się wyhodować.

Patrzmy na kulturę ubóstwa wyłącznie przez pryzmat bierności [...]. Gdy nasza perspektywa się zmienia, mamy szansę dostrzec bardzo racjonalne i mające swoje uzasadnienie kulturowe sposoby radzenia sobie z trudną sytuacją. Zobaczymy, że ci ludzie wykorzystywali wszystkie swoje możliwości i umiejętności. Jak można było żyć ze złomu, szukali złomu, jak z węgla, schodzili pod ziemię, budowali biedaszyby, jak z ziół i jagód, zbierali je na polach i w lasach. Ciężko pracowali, by odbudować swoją wartość.

Ci ludzie też marzą o tym, żeby mieć legalną pracę, chcieliby, żeby ich dzieci uczyły się języków obcych i podróżowały po świecie. Finał mojej książki to też dowód, że w sensie psychologicznym wielu z nich przetrwało. Ich dzieci podejmują już wyzwania współczesnego świata. Migrują, studiują zaocznie, zdobywają nowe zawody i wyjeżdżają za granicę. W ogromnym stopniu dlatego, że starali się, że udało im się – w sposób nie do końca uświadomiony – odbudować poczucie własnej wartości.

25.1. Rozstrzygnij, czy koncepcja zaprezentowana w tekście 1. jest adekwatna do cech osób przedstawionych w tekście 2. Odpowiedź uzasadnij, odnosząc się do obu tekstów

Rozstrzygnięcie –

Uzasadnienie -

25.2. Na podstawie tekstu 2. oceń, czy poniższe informacje są prawdziwe. Zaznacz prawda (P) lub fałsz (F).

1. Zaprezentowane w tekście działania bezrobotnych wskazują, że wykorzystywali oni umiejętności typowe dla społeczności zbieracko-łowieckich. **P F**
2. Z tekstu wynika, że polityka państwa polskiego ułatwiła przedstawionym osobom dostosowanie się do zmiany systemowej. **P F**
3. U przedstawionych w tekście osób mamy do czynienia z rozpadem więzi społecznych i tzw. dziedziczeniem biedy i patologii. **P F**

..... /2 Suma pkt. za zadanie 25

..... Zadanie 26. (0-1)

Fragment pisma

Grodzisk Maz., dnia 13 czerwca 2008 r.
Do: Sąd Rejonowy w Grodzisku Maz. [1. NAZWA WYDZIAŁU]
Stanisław Szulc Wielikowo Małe 2
..... [2. NAZWA TYPU PISMA] o stwierdzenie zasiedzenia własności nieruchomości

Na podstawie: www.infor.pl

Zaznacz poprawne dokończenia zdań dotyczących wykropkowanych nazw z fragmentu pisma.

1. Pismo, którego fragment zaprezentowano, rozpatrzy wydział:

- A. karny B. cywilny C. rodzinny D. gospodarczy

2. Pismo, którego fragment zaprezentowano, to:

- A. postanowienie B. zażalenie C. wniosek D. pozew

Ź: EM 2018.05

..... Zadanie 27. (0-1)

Fragmety aktu prawnego obowiązującego w Rzeczypospolitej Polskiej

Przepis 1. Każdemu zapewnia się wolność organizowania pokojowych zgromadzeń i uczestniczenia w nich.

Przepis 2. Każdy ma prawo do ochrony zdrowia.

Przepis 3. Zapewnia się wolność i ochronę tajemnicy komunikowania się.

Przepis 4. Pracownik ma prawo do określonych w ustawie dni wolnych od pracy i corocznych płatnych urlopów; maksymalne normy czasu pracy określa ustawa.

Dz.U. 1997, nr 78, poz. 483, z późn. zm. (stan prawny na 16 marca 2021 r.). Zadanie 23.1. (0-1)

Do każdego typu praw i wolności człowieka wyodrębnionego w Konstytucji Rzeczypospolitej Polskiej dopasuj przepis prawny, który dotyczy jednego z takich praw lub wolności – wpisz właściwe numery. Dwóch przepisów nie można dopasować.

A. Wolności i prawa osobiste – przepis

B. Wolności i prawa polityczne – przepis

Ź: IM

..... /2 Suma pkt. za zadania 26-27

BRUDNOPIS

Liczba punktów:..... Podpisy Komitetu Głównego: Spr.: Wer.:

Ź: EM..... – źródłem zadań są arkusze z egzaminów maturalnych CKE z poszczególnych podanych lat.

Ź: IM- źródłem jest Informator Maturalny CKE