

Liczba punktów:/40

Imię i nazwisko ucznia Klasa

Szkoła - W województwo -

Uwaga!

- **Samo posiadanie przy sobie telefonu komórkowego lub innych urządzeń telekomunikacyjnych czy elektronicznych nośników informacji, równoznaczne jest z dyskwalifikacją, dlatego jeśli nie oddałeś ich swojemu opiekunowi, musisz je przekazać teraz na czas pisania testu osobie w Komisji Egzaminacyjnej**
- **Udzielasz odpowiedzi na 40 pytań testowych wielokrotnego wyboru w nieprzekraczalnym czasie 40 minut (łącznie z czasem na zapoznanie się z niniejszą instrukcją)**
- **Pamiętaj, że w obu częściach odpowiedzi udzielasz długopisem w kolorze niebieskim lub czarnym.**
- **Nie można używać ołówków ani korektorów (za ich stosowanie Twoja praca zostanie zdyskwalifikowana i za całość otrzymasz 0 pkt.).**
- **Każde skreślenie, poprawka i nieczytelna odpowiedź traktowane są jako odpowiedź błędna. Tak więc udzielając odpowiedzi, zastanów się najpierw zanim dokonasz odpowiedniego wpisu czy zaznaczysz odpowiedź.**
- **Z boku każdego zadania masz wpisaną liczbę, która wskazuje, ile można uzyskać punktów za dane zadanie.**

1/ Uzupełnij poniższą tabelę, wpisując brakujące dane: rok wydarzenia lub ważne wydarzenie historyczne oraz kto wówczas panował w Polsce: /3

	Rok	Ważne wydarzenie historyczne	Ówczesny panujący w Polsce:
A		Zwycięstwo Polaków nad Krzyżakami pod Płowcami	
B	1122		
C		Koronacja cesarska Ottona I	

2/ Rozstrzygnij, czy podane informacje są prawdziwe (wstaw P) czy fałszywe (wstaw F): /3

- A/ Polacy ponieśli porażki z Kozakami w bitwach pod Batohem i Żółtymi Wodami -
- B/ Następcą dziedzicznym na tronie polskim po Władysławie IV był Jan Kazimierz -
- C/ Reformacja XVI-wieczna w Polsce przyczyniła się do wzrostu nietolerancji -
- D/ Piotr I Wielki był pierwszym carem z dynastii Romanowów -
- E/ W rozbiorach Polski brali udział: Katarzyna Wielka, Maria Teresa i Fryderyk I -
- F/ Władcami rosyjskimi po wygaśnięciu dynastii Rurykowiczów byli m.in.: Borys Godunow, Fiodor II, Dymitr II, Wasyl IV Szujski, Władysław Waza -

Razem pkt. za zadania 1-2: /6

3/ **Wymień, do jakiego państwa należały niżej wymienione obszary przed i po kongresem wiedeńskim:** /5.....

	Obszar	Przed	Po
A	Gdańsk	A1/	A2/
B	Okręg Tarnopola	B1/	B2/
C	Dalmacja	C1/	C2/
D	Saksonia Północna	D1/	D2/
E	Norwegia	E1/	E2/

4/ **Kto to był:** /3.....

a/ jeden z członków II triumwiratu, usunięty jako pierwszy (a potem Marek Antoniusz) ze sceny politycznej przez Oktawiana Augusta -

b/ cesarz rzymski, usunięty przez Odoakra -

c/ historiograf rzymski, autor historii Rzymu od jego założenia do I w. p.n.e. -

5/ **Uzupełnij poniższy tekst:** /5.....

Budownictwo rzymskie stało na bardzo wysokim poziomie. Starożytni wznosili świątynie, budując je na

..... (b) . Jedną z najwspanialszych z nich był

..... (d) wieku ku czci wszystkich bogów. W celu unaocznienia potęgi i świetności cesarzy i wodzów budowano

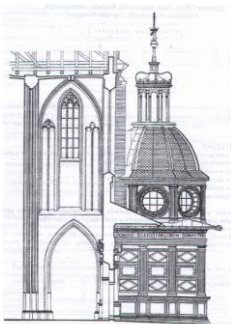
..... (e). Rzymianie budowali także

wodociągi dostarczające wodę do miast. Nazywali je

..... (f). Dużo czasu spędzali w amfiteatrach, z których najważniejszym było rzymskie

..... (g). Rzymianie lubili także przebywać w łaźniach, które zwali

6/ L P **Zamieszczony obok rysunek przedstawia fragment świątyni. Wykonana ona została w dwóch stylach architektonicznych. Odpowiedz:** /2.....



a/ Wpisz, która część tej świątyni przedstawia styl średniowieczny – lewa (wpisz L) czy prawa (wpisz P):

b/ napisz także, jak nazywa się ów styl średniowieczny:

.....

7/ **Wymień, z jakiego państwa średniowiecznego pochodzili:** /3.....

a/ Karol Wielki - b/ Karol Robert -

c/ Henryk V -

Razem pkt. za zadania 3-7: /18

8/ Do podanych poniżej pojęć dobierz po 2 odpowiednie cechy charakterystyczne: /2

- | | |
|--------------------------|--|
| A. demokracja szlachecka | 1. ustrój Rzeczypospolitej XVI w. |
| B. oligarchia magnacka | 2. rządy rodów |
| | 3. cały stan decyduje w sprawach państwowych |
| A - + | 4. niczym nieograniczona władza centralna |
| B - + | 5. zapoczątkowana w XVII w. w Polsce |

9/ Podaj nazwy miejscowości, w których zawarto układy w XVII w., gdzie postanowiono: /3

- A. – Rosja otrzymuje Zadnieprze oraz Kijów na 2 lata -
- B. – Rzeczpospolita traci Podole i musi płacić haracz -
- C. – Szwecja ostatecznie zatrzymuje Inflanty, a polscy Wazowie zrzekają się pretensji do tronu szwedzkiego -


10/ W tabeli zamieszczono opisy charakteryzujące wydarzenia wiosny ludów w różnych krajach Europy. Uzupełnij tabelkę, wpisując państwo, jakiego dany opis dotyczy: /3

Opis	Państwo
W lutym 1848 roku abdykował Ludwik Filip i proklamowano republikę	a/
Ferdynand I pod żądaniem ludu nadał konstytucję, po czym abdykował	b/
Trwałą zdobyczą wiosny ludów było utrzymanie w tym państwie na stałe liberalnej konstytucji Karola Alberta	c/


Razem pkt. za zadania 8-10: /8

11/ B. Praca ze źródłem – tekstem: Ikonografia polskich prezydentów.

Do podanych fotografii prezydentów polskich (ułożonych chronologicznie) podaj ich imiona i nazwiska oraz w jakich latach sprawowali oni urząd prezydenta: /8



- a/ : -
- b/ : -
- c/ : -
- d/ : -



e/ : -

f/ : -

g/ : -

h/ : -

Razem pkt. za zadanie 11: /8

BRUDNOPIS

Liczba punktów za cały test razem:/ na 40 możliwych. Podpisy czytelne Komitetu Okręgowego:

Sprawdzający: Weryfikujący:

Podpis osoby kwalifikującej - Organizatora (spoza Komitetu Okręgowego):